

नमूना प्रश्न पत्र-1
उच्च प्राथमिक परीक्षा-2021
कक्षा-6
हिन्दी
Sample Question Paper-I
Upper Primary Examination-2021
Class - 6
Hindi

समय : 2:30 घण्टे
Time : 2:30 Hours

पूर्णांक : 50
Marks : 50

परीक्षार्थियों के लिए सामान्य निर्देश :

1. परीक्षार्थी सर्वप्रथम अपने प्रश्न पत्र पर अपना नामांक अनिवार्यतः लिखें।
2. सभी प्रश्न अनिवार्य हैं।
3. प्रत्येक प्रश्न का उत्तर दी गई उत्तर पुस्तिका में ही लिखें।
4. जिन प्रश्न में आंतरिक खंड हैं, उन सभी के उत्तर एक साथ ही लिखें।
5. प्रश्न का उत्तर लिखने से पूर्व प्रश्न का क्रमांक अवश्य लिखें।

अधिगम क्षेत्र	अंक
पाठ्यपुस्तक	25
व्याकरण	15
रचनात्मक	10
कुल	50

1. बहु वैकल्पिक प्रश्न –

- i) अमृत का पर्यायवाची शब्द नहीं है – (1)
 (अ) पीयूष (ब) सुधा (स) निशाचर (द) सोम
- ii) “ईग प्रत्यय से बना शब्द नहीं है – (1)
 (अ) क्रोधी (ब) पंजाबी (स) घबराहट (द) लोभी
- iii) जो शब्द किसी जाति का बोध करवाए उसे कहते हैं – (1)
 (अ) व्यक्तिवाचक–संज्ञा (ब) जातिवाचक–संज्ञा (स) भाववाचक–संज्ञा (द) द्रव्यवाचक–संज्ञा
- iv) निम्नालिखित में से अशुद्ध शब्द हैं – (1)
 (अ) अधीन (ब) अरपन (स) अभिषेक (द) अनुसरण
- v) हिम+आलय को जोड़ने पर शब्द बनता है – (1)
 (अ)हिमालय (ब) हिमआलय (स) हिमलय (द) हीमालय
- vi) एक का विलोम शब्द है – (1)
 (अ)अनेक (ब) अधिक (स) बहुत से (द) ज्यादा

2. रिक्त स्थानों की पूर्ति कीजिए –

- I. साँसों में अब तक धरती की बसी हैं। (छवि/छाया) (1)
- II. इस वर्ष फसल अच्छी हुई है अनाज महंगा है। (इसलिए/कि) (1)
- III. पाप का विलोम शब्द है। (पुण्य/सभ्य) (1)

3. एक पंक्ति में उत्तर दीजिए –

- I. “संसार पुस्तक हैग में लेखक ने “प्रकृति के अक्षरग किन्हें कहा हैं? (1)
- II. माँ मोहन के “ऐसे-ऐसेग कहने पर ही क्यों घबरा रही थी? (1)
- III. “पार नजर केग कहानी में अंतरिक्ष यान को किसने भेजा था? (1)
- IV. अक्षरों की खोज का सिलसिला कब और कैसे शुरु हुआ? (1)

खण्ड-ब

4. निम्नलिखित में से किन्ही दो प्रश्नों के उत्तर दीजिए। (उत्तर सीमा : 30 शब्द प्रति प्रश्न) (02 x 02 = 04)

- I. नम्बर एक, नम्बर दो और नम्बर तीन अजनबी से निबटने के कौन से तरीके सुझाते हैं?
- II. “वह चिड़िया जो” कविता के आधार पर बताओ कि चिड़िया को किन-किन चीजों से प्यार हैं?
- III. केशव ने श्यामा से चिथड़े, टोकरी और दाना-पानी माँगकर कार्निंस पर क्यों रखे थे?
- IV. केशव और श्यामा ने चिड़िया क अण्डों की रक्षा की या नादानी?

5. उपसर्ग की परिभाषा बताइए।

(2)

अथवा

- कर्मवाच्य की परिभाषा बताते हुए दो उदाहरण दीजिए।
6. "दशानन तथा "पीताम्बर शब्द में प्रयुक्त समास के नाम बताइए। (2)

अथवा

- "आहट प्रत्यय लगाकर चार शब्द बनाइए।
7. क्रिया की परिभाषा बताते हुए कर्म के आधार पर भेदों के नाम लिखिए। (2)

अथवा

"आँखें दिखाना" मुहावरे का अर्थ बताते हुए वाक्य प्रयोग कीजिए।

खण्ड—स

(03 X 03 = 09)

8. निम्नलिखित में से **किन्हीं तीन** प्रश्नों के उत्तर दीजिए। (उत्तर सीमा – 50 शब्द)
- आशय स्पष्ट कीजिए – हाथ पकड़कर फिर सदा हमारे, साथ नहीं फिरती दिन—रात।
 - गोल, चमकीले रोड़े को यदि दरिया और आगे ले जाता तो क्या होता?
 - अक्षरों के ज्ञान से पहले मनुष्य अपनी बात को दूर दराज के इलाकों तक पहुँचाने के लिए किन—किन माध्यमों का सहारा लेता था?
 - "वह चिड़िया जो" कविता के अनुसार बताइए कि चिड़िया को किन—किन चीजों से प्यार है?
 - "पार नजर के" कहानी के अनुसार मंगल ग्रह पर भी आम जन—जीवन था। वह सब नष्ट कैसे हो गया?
 - हेलन केलर प्रकृति की किन चीजों को छूकर और सुनकर पहचान लेती थी?

खण्ड—04

(04 x 02 = 08)

9. निम्नलिखित पद्यांश की सप्रसंग व्याख्या कीजिए – (04)

वह चिड़ियाँ जो—कंड खोलकर
बूढ़े वन—बाबा की खातिर
रस उँड़ेलकर गा लेती है
वह छोटी मुहँ बोली चिड़ियाँ
नीले पंखों वाली मैं हूँ
मुझे विजन से बहुत प्यार है।

अथवा

मैं सबसे छोटी होऊँ
तेरी गोदी में सोऊँ
तेरी अंचल पकड़कर
फिरूँ सदा माँ! तेरे साथ
कभी न छोडूँ तेरा हाथ!

10. निम्नलिखित गद्यांश की सप्रसंग व्याख्या कीजिए – (4)
- अक्षरों की खोज के साथ एक नए युग की शुरुआत हुई। आदमी अपने विचार और अपने हिसाब-किताब को लिखकर रखने लगा। तब से मानव को “सभ्य” कहा जाने लगा। आदमी ने जबसे लिखना शुरू किया तबसे “इतिहास” आरंभ हुआ।

अथवा

कभी-कभी मेरा दिल इन सब चीजों को देखने के लिए मचल उठता है। अगर मुझे इन चीजों को सिर्फ छूने भर से इतनी खुशी मिलती है, तो उनकी सुंदरता देखकर तो मेरा मन मुग्ध ही हो जाएगा।

खण्ड-05

(05 x 02 – 10)

11. अपने मोहल्ले में चोरी की बढ़ती घटनाओं को रोकने के सम्बन्ध में थानाध्यक्ष को पत्र लिखिए। (05)

अथवा

अपने विद्यालय के प्रधानाध्यापक जी को बीमारी के कारण दो दिन के अवकाश हेतु प्रार्थना पत्र लिखिए।

12. किसी एक विषय पर 150–175 शब्दों में निबन्ध लिखिए। (05)

- I. कोरोना महामारी
- II. दीपावली
- III. मेरे जीवन का लक्ष्य
- IV. मेरे प्रिय शिक्षक

नमूना प्रश्न पत्र-2
उच्च प्राथमिक परीक्षा-2021
कक्षा-6
हिन्दी
Sample Question Paper-II
Upper Primary Examination-2021
Class - 6
Hindi

समय : 2:30 घण्टे
Time : 2:30 Hours

पूर्णांक : 50
Marks : 50

परीक्षार्थियों के लिए सामान्य निर्देश :

1. परीक्षार्थी सर्वप्रथम अपने प्रश्न पत्र पर अपना नामांक अनिवार्यतः लिखें।
2. सभी प्रश्न अनिवार्य हैं।
3. प्रत्येक प्रश्न का उत्तर दी गई उत्तर पुस्तिका में ही लिखें।
4. जिन प्रश्न में आंतरिक खंड हैं, उन सभी के उत्तर एक साथ ही लिखें।
5. प्रश्न का उत्तर लिखने से पूर्व प्रश्न का क्रमांक अवश्य लिखें।

अधिगम क्षेत्र	अंक
पाठ्यपुस्तक	25
व्याकरण	15
रचनात्मक	10
कुल	50

खण्ड – अ**(13 अंक)****1. बहु वैकल्पिक प्रश्न –**

- i) "अग्नि" का तद्भव शब्द है – (1)
(अ) आग (ब) ज्वाला (स) अमिय (द) दहन
- ii) निम्नलिखित में भाववाचक संज्ञा है – (1)
(अ) जवानी (ब) हिमालय (स) हंस (द) सोना
- iii) कस शब्द में "आ" उपसर्ग का प्रयोग नहीं हुआ है – (1)
(अ) आगमन (ब) आमरण (स) अवस्था (द) आकर्षण
- iv) "पराजय" शब्द में उपसर्ग है – (1)
(अ) परा (ब) प्र (स) परि (द) निर्
- v) निम्नलिखित में से शुद्ध शब्द छांटिए – (1)
(अ) रामायण (ब) रमायण (स) रामायन (द) रामयण
6. "नमस्कार" का संधि विच्छेद है – (1)
(अ) नमस+कार (ब) नमः+कार (स) नमः+सकार (द) नमो+कार

2. रिक्त स्थानों की पूर्ति कीजिए—

- I. वे दोनों बाजार से भोजन..... लेने गए हैं। (सामग्री/सामिग्री) (1)
- II. महादेवी वर्मा हिन्दी की प्रसिद्ध..... हैं। (कवयित्री/कवी) (1)
- III. खास का विलोम शब्द है। (आम/अच्छा) (1)

3. निम्नलिखित प्रश्नों के एक पंक्ति में उत्तर दीजिए –

- I. छोट्टू का परिवार कहाँ रहता था? (1)
- II. ऐसा क्यों कहाँ गया है कि अक्षरों के साथ एक नए युग की शुरुआत हुई? (1)
- III. "प्रकृति का जादू" किसे कहा गया है? (1)
- IV. "जिन लोगों के पास आँखें हैं, वे सचमुच बहुत कम देखते हैं" हेलेन केलर को ऐसा क्यों लगता था? (1)

खण्ड—ब**(10 अंक)****4. निम्नलिखित में से किन्हीं दो प्रश्नों के उत्तर दीजिए – (उत्तर सीमा : 30 शब्द प्रति प्रश्न) (02 x 02 = 04)**

- I. "कुछ खास तो नहीं – हेलेन की मित्र ने यह जवाब किस मौके पर दिया और यह सुनकर हेलेन को आश्चर्य क्यों नहीं हुआ? (1)
- II. लाखों करोड़ों वर्ष पहले हमारी धरती कैसी थी? (1)

- III. दुनिया का पुराना हाल किन चीजों से जाना जाता है? कुछ चीजों के नाम लिखों।
- IV. "वह चिड़िया जो कविता का कोई और शीर्षक देना हो तो क्या शीर्षक देना चाहोगे?"
5. निम्नलिखित शब्दों के विलोम शब्द लिखिए—(कोई दो) (2)
- (1) झूठ (2) दिन (3) पाप (4) संतोष
6. निम्नलिखित शब्दों के तीन-तीन पर्यायवाची शब्द लिखिए – (कोई दो) (2)
- (1) फूल (2) माँ (3) मछली (4) हाथ
7. निम्नलिखित शब्दों के शुद्ध रूप लिखिए – (2)
- (1) र्खच (2) उदघाटन (3) नीमन्त्रण (4) कोंध

खण्ड—स

(03 X 03 = 09)

8. निम्नलिखित प्रश्नों में से किन्हीं तीन प्रश्नों के उत्तर दीजिए – (03x03=09) (उत्तर सीमा – 50 शब्द)
- I. "तुम्हें बताऊँगी कि हमारे समय और तुम्हारे समय में कितनी दूरी हो चुकी है।" – इस बात के लिए लेखिका क्या-क्या उदाहरण देती है?
- II. बचपन (संस्मरण) में लेखिका अपने बचपन में कौन-कौन सी चीजें मजा ले लेकर खाती थी? उनमें से प्रमुख फलों के नाम लिखिए।
- III. कंट्रोल रूम में जाकर छोटू ने क्या देखा और वहाँ उसने क्या हरकत की?
- IV. गोल, चमकीला, रोड़ा अपनी क्या कहानी बताता है?
- V. "जबकि इस नियमित से जिंदगी को खुशियों के इंद्रध रंगों से हरा-भरा किया जा सकता है।" – तुम्हारी नज़र में इसका अर्थ क्या हो सकता है?
- VI. अपने छुटपन में अपनी माँ के बहुत करीब होते हैं। कविता में नजदीकी की कौन-कौनसी स्थितियाँ बताई गई हैं?
- VII. कविता में "ऐसी बड़ी न होऊँ मैं" क्यों कहा गया है?

खण्ड—04

(04 x 02 = 08)

9. निम्नलिखित पद्यांश की सप्रसंग व्याख्या कीजिए – (04)
- ऐसी बड़ी न होऊँ मैं
तेरा स्नेह न खोऊँ मैं
तेरे अंचल की छाया में
छिपी रहूँ निस्पृह, निर्भय,
कहूँ-दिखा दे चंद्रोदय।

अथवा

वह चिड़िया जो—
चोचं मारकर
दूध भरे जुंडी के दाने
रूचि से, रस से खा लेती हैं
वह छोटी संतोषी चिड़िया
नीले पंखों वाली मैं हूँ
मुझे अन्न से बहुत प्यार है।

10. निम्नलिखित गद्यांश की सप्रसंग व्याख्या करो – (04)

हमारी यह धरती लगभग पाँच अरब साल पुरानी है। दो-तीन अरब साल तक इस धरती पर किसी प्रकार के जीव-जन्तु नहीं थे। फिर करोड़ों साल तक केवल जानवरों और वनस्पतियों का ही इस धरती पर राज्य रहा। आदमी ने इस धरती पर कुछ पाँच लाख साल पहले जन्म लिया। धीरे-धीरे उसका विकास हुआ।

अथवा

वसंत के दौरान मैं टहनियों में नयी कलियाँ खोजती हूँ। मुझे फूलों की पँखुड़ियों की मखमली सतह छूने और उनकी घुमावदार बनावट महसूस करने में अपार आनंद मिलता है। इस दौरान मुझे प्रकृति के जादू का कुछ अहसास होता है।

खण्ड-05

(05 x 02 – 10)

11. अपने विद्यालय के प्रधानाचार्य को शुल्क माफ कराने के लिए प्रार्थना पत्र लिखिए। (05)

अथवा

आपकी वार्षिक परीक्षा नजदीक है। अपने पिताजी को परीक्षा की तैयारी के सम्बन्ध में सूचना देते हुए एक पत्र लिखिए।

12. किसी एक विषय पर 150-175 शब्दों में निबन्ध लिखिए। (05)

01. प्रकाश पर्व : दीपावली
02. अनुशासन का महत्त्व
03. समय का सदुपयोग
04. होली

Sample Question Paper- 1
Upper Primary Examination-2021

Class - 6

Subject : English

Time : 2:30 Hours

Marks : 50

GENERAL INSTRUCTIONS TO THE EXAMINEES:

- 1- Candidates must write his/her Roll Number on the question paper.
- 2- All the questions are compulsory.
- 3- Write the answer of each question in the answer sheet only.
- 4- For question having more than one part, the answers to those parts are to be written together in continuity.
- 5- Write down the serial number of the question before attempting it.

Question	Mark Per Question
Text book	25
Grammar	15
Composition	10
Total	50

SECTION A

1. Multiple Choice Questions -

- (i) Write the missing letter- 1
(A) C_p (B) P_r_nts (C) Sch__l (D) D_s_rt
- (ii) Which of the underline words have a different sound - 1
(A) Some (B) Come (C) Nose (D) None
- (iii) Which of the underline words have a different sound- 1
(A) Cup (B) Tub (C) Rub (D) Put
Choose the correct Article -
- (iv) He is ----- blind boy. 1
(A) An (B) The (C) a (D) X
Choose the correct Article -
- (v)----- king was very kind. 1
(A) A (B) The (C) an (D) X
- (vi) Ramu ----- to the farm every morning. 1
(a) Went (b) has gone (c) goes (d) has gone

2. Fill in the blanks with the help of the words given in the blanks

(obey, left, right, close)

4

- (i) We should..... our elders.
(ii) Do not overtake any vehicle from its.....side.
(iii) your book

3. Arrange the following sentences 3
- (i) Travelling /bus/ by I/ like.
 - (ii) Book/ my / I/ lost.
 - (iii) I/ food/ my mother/ by/ cooked/ like

SECTION B

4. Answer the following questions from your text.(**any two**) 4
- i) Why did the little man grant patrick a wish?
 - ii) Where was Kalpana Chawla born?
 - iii) How do Mangooses kill snake?
 - iv) When did "What If " crawl inside the poet's ear ?
5. Write the opposite of following words- 2
- (A)Outside (B) Slow (C) Old (D) Happy
6. Write the gender of following words- 2
- (A)Boy (B) Ox (C) God (D) His
7. Write appropriate one word for the group of words- 2
- (i) A person who teaches students.
 - (ii) House of birds.

SECTION C

8. Write the answer of the following questions (**Any three**)- 9
- (i) What was the game that every child in school had to play in the lesson "A Different Kind of School"?
 - (ii) Why was Jumman happy over Algu's nomination as head panch?
 - (iii) How do desert animals survive without water?
 - (iv) Who is speaker in the poem "What If"?
 - (v) Why did the dog feel the need for a master in "How the Dog Found Himelf a New Master!"?

SECTION D

9. Read the following passage carefully and answer the question given below.

“No more than is needed to help them to learn how to do things-simple spelling, adding, subtracting, multiplying and writing. The rest is done by reading to them and by interesting talks.”

“The real aim of this school is not so much to teach thought as to teach thoughtfulness, kindness to others.

- (i) What is real aim of the school? 1
- (ii) What is not needed anymore? 1
- (iii) How is the rest of the work done? 1
- (iv) Write plural of following :- lesson, Talk. 1

10. Arrange the following lines according to the time of event. 4

- (i) I take exercise.
- (ii) I wake up early.
- (iii) I go to bed.
- (iv) In the evening I sit with family.

SECTION E

11. You are Raja/Rani. You are environment lover. Write a letter to your friend telling him about importance of environment. 5

OR

You are Ravi. You have an urgent work at home. Write an application to your principal to grant you two days leave.

12. Write ten lines on ‘The Camel’. 5

OR

Write a story with the help of given outlines ‘Greedy Dog’-

A dog..... greedy.....piece of bone.....is crossing a stream..... sees its reflection.....thinks..... another dog..... wants to take..... barks..... its piece falls into water..... was very sad.

Sample Question Paper- 2
Upper Primary Examination-2021
Class - 6
Subject : English

Time : 2:30 Hours

Marks : 50

GENERAL INSTRUCTIONS TO THE EXAMINEES:

1. Candidates must write his/her Roll Number on the question paper.
2. All the questions are compulsory.
3. Write the answer of each question in the answer sheet only.
4. For question having more than one part, the answers to those parts are to be written together in continuity.
5. Write down the serial number of the question before attempting it.

Question	Mark Per Question
Text book	25
Grammar	15
Composition	10
Total	50

SECTION-A

1. Multiple Choice Questions -

- (i) What is the opposite of 'Day'? 1
(a) Cold (b) hot (c) Night (d) morning
- (ii) The rhyming word of 'House' is? 1
(a) Dance (b) Chance (c) Souse (d) Mouse
- (iii) A word that tells about a noun is called- 1
(a) Noun (b) Adjective (c) Adverb (d) Pronoun
- (iv) A simile is a figure of speech that directly compares two things with the words- 1
(a) no/never (b) as/like (c) yes/no (d) day/night
- (v) What s "Spinach" called in hindi- 1
(a) आलू (b) पालक (c) गोभी (d) गाजर
- (vi) Article 'An' is used before a word a word beginning with- 1
(a) a,e,i,o,u (b) m,n,i,o,u (c) g,h,a,e,u (d) a,u,x,y,z

2. Fill in the blanks with appropriate word from brackets.

- (i) Bindu requests her father to buy Smart phone. (a/an/the) 1
- (ii) Opposite of 'Forger' is(Forgable/remember) 1
- (iii)is your name? (What/When) 1

3. Answer the following questions in one word-

- (i) Kalpanachawla's fist space mission was in Space Shuttle (India/Columbia)1
- (ii) The name of a person/place or a thing is (Pronoun/Noun) 1
- (iii) Camel who has only one humb, is called.....(Bactrian/Dromedary) 1
- (iv)With the help of prefix 'un', make an opposite of breakable..... 1

(Breakable/unbreakable)

SECTION-B

4. Answer the following questions: 4
- (i) Where was Kalpana Chawla born? Why is she called an Indian American?
 - (ii) Why did the little man grant Patrick a wish?
 - (iii) Why do you think the writer visited Miss Beam's school?
 - (iv) Why did the waterfall give two sake and others water?

5. Write the Definition of Noun? 2

OR

Make nouns from the words given below by adding ...ness or ...ity

- (a) Kind (b) Bitter (c) Mature (d) Responsible

6. Write any 4 words with the help of suffixness 2

OR

Write the Rhyme scheme of following lines-

What if I get up?

What if there's position in my cup?

What if I start to cry?

What if I get sick and die?

What if flunk that test?

What if green hair grows on my chest?

7. Give the meaning of phrases. 2

(i) Blast off

(ii) Carry on

OR

Write two sentences like this using 'most' and the clues below-

- (i) (90% of) people are honest (10%) are dishonest.

SECTION-C

8. Write Answer:(Any three) (3X3=9)

- (i) Who do you think did Patrik's homework- the little man, or Patrik himself? Give reasons for your answers .
- (ii) How every child in the school had to play ?
- (iii) What was the 'game' that every child in the school had to play ?
- (iv) What does kalpanachawla say about pursuing a aueam ? Do you agree with her that success is possible ?
- (v) Why did he serve the lion for a long time ?

SECTION-D

9. Read the extract carefully and answer the following questions

4

What is the house?

It is a wreck and stone
and wood that is hard

Some window glass and perhaps a yard

- (i) Write the poet's names.
- (ii) What is the house, according to the poet?
- (iii) Find the synonym for the word "Perhaps"
- (iv) A house is measured in?

OR

Beauty is heard

In the night,

Wind sighing, rain falling

Or a singer chanting

Anything in earnest.

- (i) What does the poet mean in the 'beauty heard in the night'?
- (ii) What can be heard at night?
- (iii) What is the impact of sounds?
- (iv) What is the antonym of earnest?

10. Read the passage carefully and answer the following questions

4

Seeing that the Bear was stronger than the wolf, the Dog decided to take up service with him and he left the wolf and asked the bear to be his master. (answer **Any two**)

- (i) Who was the stronger than the wolf?
- (ii) Who decided to take up services with him?
- (iii) Who was the new master of Dog?

OR

Kalpana Chawla said that she never dreamed as a child in Karnal, that she would cross the frontiers of space. It was enough that her parents allowed her to attend the engineering college after she graduated from Tagore School. (Answer **Any Two**)

- (i) Where was Kalpana Chawla born.

- (ii) From where she Graduated .
- (iii) What Kalpana Chawla Crosses

SECTION-E

11. Rearrange the sentences to make it a proper story.

5

- (i) Once there was a mouse.
- (ii) The girl wanted to marry the strongest person in the world.
- (iii) The magician changed the girl into a mouse again.
- (iv) It was afraid of a cat.
- (v) -----
- (vi) -----
- (vii) The girl wanted to marry the mouse.
- (viii) She came to know that the clouds was the stronger than the sun.
- (ix) But the mouse was stronger than the Mountain.
- (x) The girl wanted to marry sun.

OR

Write the complete sentences again in arranged manner

- i) Once there.....mouse.
- ii) It wasa cat.
- iii) A magicianinto a girl.
- iv) The girlin the world.
- v) The girlssun.
- vi) She camesun.
- vii) The mountaincloud.
- viii) But amountain.
- ix) The girl.....mouse.
- x) The magician.....again.

12. Write the paragraph on a 'best friend' with the help of some words given in box: 5
(Teachers, friends, sings, best play, neighbors, school, study, Drawing, love)

Isha has many _____ but Neha is her _____ friend. They are _____. They together _____. Isha _____ sweet. Neha make nice _____. They respect their teacher's _____ them.

OR

Write an application to your head master for granting you leave for two days as you are ill.

नमूना प्रश्न पत्र-1
उच्च प्राथमिक परीक्षा-2021
कक्षा-6
गणित
Sample Question Paper-I
Upper Primary Examination-2021
Class - VI
Maths

समय : 2:30 घण्टे
Time : 2:30 Hours

पूर्णांक : 50
Marks : 50

परीक्षार्थियों के लिए सामान्य निर्देश :

GENERAL INSTRUCTIONS TO THE EXAMINEES:

1. परीक्षार्थी सर्वप्रथम अपने प्रश्न पत्र पर अपना नामांक अनिवार्यतः लिखें।
Candidates must write his/her Roll Number on the question paper.
2. सभी प्रश्न अनिवार्य हैं।
All the questions are compulsory.
3. प्रत्येक प्रश्न का उत्तर दी गई उत्तर पुस्तिका में ही लिखें।
Write the answer of each question in the answer sheet only.
4. जिन प्रश्न में आंतरिक खंड हैं, उन सभी के उत्तर एक साथ ही लिखें।
For question having more than one part, the answers to those parts are to be written together in continuity.
5. प्रश्न का उत्तर लिखने से पूर्व प्रश्न का क्रमांक अवश्य लिखें।
Write down the serial number of the question before attempting it.
6. प्रश्न पत्र के हिंदी व अंग्रेजी रूपांतर में किसी प्रकार की त्रुटि अंतर विरोधाभास होने पर हिन्दी भाषा के प्रश्न को ही सही मानें।
If there is any kind of error/ difference/contradiction in the Hindi and English versions of the question paper, the question of Hindi version should be treated valid.
7. प्रश्न संख्या 1 बहुविकल्पी प्रश्न है, जिसमें 6 भाग हैं। प्रत्येक भाग एक अंक का है। सही विकल्प का चयन कर उत्तर पुस्तिका में लिखें।
Question number 1 is an multiple choice question, with 6 parts. Each part is of one mark. Choose the correct option and write it in the answer sheet.

प्रश्न संख्या Question No.	अंक प्रति प्रश्न Mark Per Question
1 (i) to (vi)	1
2-8	1
9-13	2
14-16	3
17-18	4
19-20	5

(खण्ड-अ)

1. बहु वैकल्पिक प्रश्न-

- (i) 841 का सैकड़े तक सन्निकटक होगा:- (1)
(अ) 840 (ब) 800 (स) 850 (द) 900
- (ii) 12007 का परिवर्ती होगा :- (1)
(अ) 12008 (ब) 12006 (स) 12000 (द) 12007
- (iii) संख्या रेखा पर 0 के बाईं ओर 4 कदम चलने पर प्राप्त होगा :- (1)
(अ) 4 (ब) 3 (स) -4 (द) -3
- (iv) 0.05 ली न्यूनतम भिन्न होगा :- (1)
(अ) $1/50$ (ब) $1/25$ (स) $1/20$ (द) $5/50$
- (v) एक वर्गाकार खेत के चारों ओर एक चक्कर लगाने पर तय की गई दूरी होगी :- (1)
(अ) $4 \times \text{भुजा}$ (ब) $(\text{भुजा})^2$ (स) $\text{भुजा}/4$ (द) $4 \times (\text{भुजा})^2$
- (vi) समीकरण $5X = 20$ में X का मान होगा :- (1)
(अ) 2 (ब) 3 (स) 4 (द) 5

2. त्रिभुज कोण की माप कितनी होती है? (1)
3. संख्या रेखा का प्रयोग करते हुए वह पूर्णांक ज्ञात कीजिए जो 5 से 3 अधिक है। (1)
4. 2 किग्रा 4 ग्राम को किग्रा के रूप में लिखो। (1)
5. किसी संख्या का 5 गुना 35 है, वाक्य के रूप में लिखो। (1)
6. समबाहु त्रिभुज का परिमाप _____ होता है। (1)
7. $20+50+2/3$ को दशमलव रूप में _____ लिखेंगे। (1)
8. 1 करोड़ = _____ दस लाख। (1)

(खण्ड-ब)

9. 2,8,7,4 में बिना पुनर्वृत्ति किए हुए चार अंकों की सबसे बड़ी संख्या लिखो। (2)

अथवा

निम्नलिखित संख्याओं को आरोही क्रम में लिखिए :-
9801, 25751, 36501, 38802

10. एक आयताकार खेत की लम्बाई 10 मीटर और चौड़ाई 8 मीटर है। इसके चारों ओर बाढ़ लगाने हेतु तार की कितनी लम्बाई की आवश्यकता होगी? (2)

अथवा

50 मीटर लम्बाई वाले एक आयताकार बगीचे का क्षेत्रफल 300 वर्ग मीटर है बगीचे की चौड़ाई ज्ञात कीजिए।

11. निम्नलिखित को सरलतम रूप में लिखिए :- (2)
(i) $15/75$ (ii) $16/72$

अथवा

36/48 के तुल्य वह भिन्न लिखिए जिसका :-

- (i) अंश 9 है (ii) हर 4 है

12. एक आयताकार हॉल की लम्बाई उसकी चौड़ाई के तिगुने से 4 मीटर कम है, यदि चौड़ाई 6 मीटर है, तो लम्बाई ज्ञात कीजिये। (2)
13. 30 विद्यार्थियों की कक्षा में 6 फुटबॉल, 12 क्रिकेट और बाकि टेनिस पसंद करते हैं, फुटबॉल पसंद करने वालों की संख्या का टेनिस पसंद करने वालों की संख्या से अनुपात ज्ञात कीजिए। (2)

(खण्ड—स)

14. निम्नलिखित में से प्रत्येक का अनुपात ज्ञात कीजिए :- (3)
(a) 30 मिनट का 1.5 घंटे से
(b) 40 सेमी का 1 मीटर से
(c) 55 पैसे का 1 रुपए से

अथवा

एक दर्जन पेन का मूल्य 180 ₹ है और 8 बॉल पेन का मूल्य 56 ₹ है। पेन के मूल्य का बॉल पेन के मूल्य से अनुपात ज्ञात कीजिए।

15. $3/5$ को संख्या रेखा पर दर्शाइए। (3)

अथवा

कंचन को 30 ड्रेसें रंगनी थीं। उसने अब तक 20 ड्रेसें रंग दी हैं। उसने ड्रेसों की कितनी भिन्न रंग ली ?

16. 250 मीटर भुजा वाले वर्गाकार बगीचे के चारों ओर बाड़ लगाने का व्यय 20 ₹ प्रति मीटर की दर से ज्ञात कीजिए। (3)

अथवा

एक मेज की ऊपरी सतह की विमाएँ मीटर 25 सेमी और 1 मीटर 50 सेमी हैं। मेज की ऊपरी सतह का परिमाण ज्ञात कीजिए।

खण्ड—द

17. निम्नलिखित के परिवर्ती लिखिए :- (किन्हीं 4 के) (4)
(i) 295 (ii) 625 (iii) 720 (iv) 50
(v) 990 (vi) 899 (vii) 49 (viii) 1000

18. निम्नलिखित को सुमेलित कीजिए :- (4)
i) त्रिभुज कोण (अ) $1/4$ घूर्णन से कम
ii) समकोण (ब) $1/2$ घूर्णन
iii) न्यूनकोण (स) $1/4$ घूर्णन
iv) अधिक कोण (द) $1/4$ और $1/2$ घूर्णन के बीच

अथवा

निम्नलिखित को सुमेलित कीजिए :-

- | | |
|--------------|-----------------|
| (a) न्यूनकोण | (अ) 200° |
| (b) समकोण | (ब) 60° |
| (c) अधिक कोण | (स) 80° |
| (d) वृहत कोण | (द) 90° |

(खण्ड-य)

- 19 7.3 सेमि लम्बाई का एक रेखाखण्ड AB खींचिए और उसका सममिति अक्ष ज्ञात कीजिये । (5)

अथवा

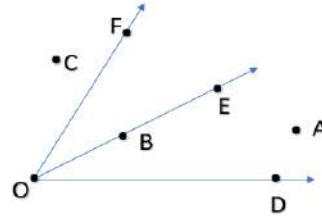
एक रेखाखण्ड AB पर स्थित किसी बिंदु M से होकर एक लम्ब कलर व प्रकार की सहायता से खींचिए।

अथवा

9.5 सेमि लम्बा एक रेखाखण्ड खींचिए और उसका लम्ब समद्विभाजक खींचिए ।

- 20 संलग्न आकृति में वे बिंदु लिखिए जो :- (5)

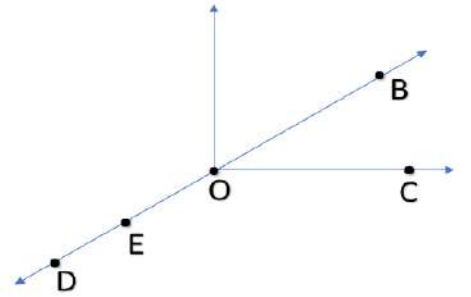
- (a) $\angle DOE$ के
अभ्यन्तर
में हो
- (b) $\angle EOF$ के
बहिर्भाग में
स्थित हो



अथवा

संलग्न आकृति को देखकर निम्नलिखित के नाम लिखिए :-

- (a) पांच बिंदु
(b) एक रेखा
(c) चार किरण



अथवा

निम्नलिखित स्थितियों में प्रत्येक के लिए उचित आकृति बनाइये और उसे नामांकित कीजिए ।

- (a) बिंदु P रेखाखंड AB पर स्थित है ।
(b) रेखाएं XY और PQ बिंदु M पर प्रतिच्छेद करती हैं ।

नमूना प्रश्न पत्र-1
उच्च प्राथमिक परीक्षा-2021

कक्षा-6

विज्ञान

Sample Question Paper-I
Upper Primary Examination-2021

Class - VI

Science

समय : 2:30 घण्टे

Time : 2:30 Hours

पूर्णांक : 50

Marks : 50

परीक्षार्थियों के लिए सामान्य निर्देश :

GENERAL INSTRUCTIONS TO THE EXAMINEES:

1. परीक्षार्थी सर्वप्रथम अपने प्रश्न पत्र पर अपना नामांक अनिवार्यतः लिखें।
Candidates must write his/her Roll Number on the question paper.
2. सभी प्रश्न अनिवार्य हैं।
All the questions are compulsory.
3. प्रत्येक प्रश्न का उत्तर दी गई उत्तर पुस्तिका में ही लिखें।
Write the answer of each question in the answer sheet only.
4. जिन प्रश्न में आंतरिक खंड हैं, उन सभी के उत्तर एक साथ ही लिखें।
For question having more than one part, the answers to those parts are to be written together in continuity.
5. प्रश्न का उत्तर लिखने से पूर्व प्रश्न का क्रमांक अवश्य लिखें।
Write down the serial number of the question before attempting it.
6. प्रश्न पत्र के हिंदी व अंग्रेजी रूपांतर में किसी प्रकार की त्रुटि अंतर विरोधाभास होने पर हिन्दी भाषा के प्रश्न को ही सही मानें।
If there is any kind of error/ difference/contradiction in the Hindi and English versions of the question paper, the question of Hindi version should be treated valid.
7. प्रश्न संख्या 1 बहुविकल्पी प्रश्न है, जिसमें 6 भाग हैं। प्रत्येक भाग एक अंक का है। सही विकल्प का चयन कर उत्तर पुस्तिका में लिखें।
Question number 1 is an multiple choice question, with 6 parts. Each part is of one mark. Choose the correct option and write it in the answer sheet.

प्रश्न संख्या Question No.	अंक प्रति प्रश्न Mark Per Question	उत्तर की शब्द सीमा Answer word limit
1 (i) to (vi)	1	सही विकल्प का चयन
2-8	1	10-20 शब्द
9-13	2	30-40 शब्द
14-16	3	50-60 शब्द
17-18	4	100-150 शब्द
19-20	5	200-250 शब्द

खण्ड—अ

Section-A

1. बहु वैकल्पिक प्रश्न

- i) निम्नलिखित में प्राकृतिक तंतु कौनसा है ? 1
(A) नायलॉन (B) ऊन (C) पॉलिस्टर (D) एक्रिलिक
Which is natural fiber in following
(A)Nylon (B) wool (C) polyster (D) acrlic
- ii) निम्नलिखित में अनुक्रमित परिवर्तन है – 01
(A) कागज के मोड़ना (B) पानी से भाप (C) दूध सेक दही
(D) आइसक्रिम का पिघलना
The irreverible change is -
(A) folding paper (B) Water to stream (C) Milk to Card
(D) Melting icecream
- iii) कोहनी की संधि किस प्रकार की संधि है. 01
(A) हिंज संधि (B) कंदुक—खल्लिका संधि (C) धुराग्र संधि (D) अचल संधि
Elbow joint is a type of
(A)Hinge joint (B) Batt-socket joint (C)Pivot joint
(D) Immoveable joint
- (iv) जैव घटक का उदाहरण है – 01
(A)वर्षा (B) पर्वत (C) गाय (D) चट्टान
Example of biotic component is
(A) Rain (B) Mountain (C) Cow (D) Rock
- (v) पारदर्शी वस्तु का उदाहरण है— 01
(A) लकड़ी (B)कांच (C) किताब (D) रबड़
Example of transparent object is
(A) Wood (B) Glass (C) Book (D) Ruber
- (vi) निम्न में चुम्बकीय पदार्थ का उदाहरण है – 01
(A) प्लास्टिक (B) लकड़ी (C) लोहा (D) मृदा
Example of mannetic material is
(A) Plastic (B) Wood (C) Iron (D) Soil

2. उत्क्रमित परिवर्तन क्या होते हैं ? 01
What are reversible change
3. अचल संधि क्या होती है ? 01
What is immovable change?
4. गति से आप क्या समझते हो ? 01
Define motion
5. विद्युत चालक पदार्थ क्या होते हैं ? 01
What are electrical conductor substances ?
6. गाय एक जंतु है 01
Cow is a..... animal.
7. लोह तत्व की कमी से रोग हो जाता है । 01
Deficiency of iron causes..... disease.
8. हमारा शरीर विद्युत का होता है। 01
Our body is electrical.....

SECTION-B

खण्ड—ब

9. शाकाहारी जन्तु किन्हें कहते हैं ? उदाहरण दीजिए। 02
Define herbivores animals with example.

OR

माँसाहारी जन्तु क्या होते हैं ? उदाहरण दीजिए।

What are carnivores animals ? Give example.

10. संतुलित आहार से आप क्या समझते हो ? 02
What is balanced diet ?

OR

भोजन के प्रमुख पोषक तत्वों के नाम लिखिए।

Write the main nutrients of food ?

11. निष्पावन किसे कहा जाता है ? 02
What is winnowing ?

12. धुराग्र संधि से आप क्या समझते हैं ? उदाहरण दीजिए। 02
What is pivotal joint, explain with example?

13. चुंबकीय पदार्थ क्या होते हैं ? उदाहरण सहित समझाइए। 02
What are magnetic materials explain with example?

OR

अचुम्बकीय पदार्थ क्या होते हैं ? उदाहरण द्वारा समझाइये।

What are non-magnetic materials explain with example?

SECTION-C

खण्ड—स

14. प्राकृतिक तंतु क्या हैं, उदाहरण दीजिए। 03

What are natural fibers, give example ?

OR

संश्लेषित तंतु क्या है, उदाहरण दीजिए।

What are synthetic fibers, give example?

15. संतृप्त विलयन किसे कहते हैं ? 03

Define saturated solution?

OR

श्रेशिंग विधि को उदाहरण सहित समझाइए।

Explain threshing method with example.

16. हिंज संधि को उदाहरण देकर समझाइए। 03

Example Hinge joint with example.

OR

कंदुक खल्लिखा संधि को उदाहरण सहित समझाइए।

Explain ball and socket joint with examples.

SECTION-D

खण्ड—द

17 निम्नालिखित का सही मिलान कीजिए। 04

पंखा	आवृत्त गति
रेलगाड़ी	वर्तुल गति
घड़ी का पेंडुलम	घूर्णन गति
गेंद	सरल रेखिय गति

Match up following in correct manner.

Fan	Periodic motion
Train	Circular motion
Clock pendulum	Rotational motion
Ball	Simple linear motion

OR

निम्नलिखित को परिभाषित कीजिए –

(1) आवृत्त गति (2) वर्तुल गति

Define following-

- (1) Periodic motion (2) Circular motion
18. निम्नलिखित का सही मिलान कीजिए – 04

लोहा	विद्युत रोधक
प्लास्टिक	विद्युत चालक
लकड़ी	विद्युत चालक
तांबा	विद्युत रोधक

Match up the following in correct manner

Iron	Insulator
Plastic	Conductor
Wood	Insulator
Copper	

OR

निम्न पर संक्षिप्त टिप्पणी लिखिए

- (1) विद्युत सेल (2) विद्युत स्विच

Write Short notes on

- (i) Electric cell (ii) Electric switch

SECTION-E

खण्ड—य

- 19 अनुकूलन क्या है, उदाहरण देकर समझाइये ? 05
what is adaptation, explain with examples

OR

सजीव क्या होते हैं ? इनके प्रमुख गुण बताइये ?

What is living organisms? Write down their main features.

OR

निम्न लिखित पर संक्षिप्त टिप्पणी लिखिए –

- (i) संजीवों में श्वसन (ii) संजीवों में उत्सर्जन

Write short notes on

- (i) Respiration in living organisms
(ii) Excretion in living organisms

20. पारदर्शी, अपारदर्शी एवं पारभासी वस्तुओं में उदाहरण सहित अन्तर स्पष्ट कीजिए । 05

Explain difference among transparent, opaque and translucent objects with examples

OR

छाया क्या होती है, ये क्यों बनती है।

What is shadow ? why do they form ?

OR

प्रकाश के परावर्तन से आप क्या समझते हो ? उदाहरण की सहायता से समझाइये ?

What is reflection of light, explain it by examples?

नमूना प्रश्न पत्र-2
उच्च माध्यमिक परीक्षा-2021
कक्षा-6
विज्ञान

Sample Question Paper-2
Senior Secondary Examination-2021
Class - VI
Science

समय : 2:30 घण्टे
Time : 2:30 Hours

पूर्णांक : 50
Marks : 50

परीक्षार्थियों के लिए सामान्य निर्देश :

GENERAL INSTRUCTIONS TO THE EXAMINEES:

1. परीक्षार्थी सर्वप्रथम अपने प्रश्न पत्र पर अपना नामांक अनिवार्यतः लिखें।
Candidates must write his/her Roll Number on the question paper.
2. सभी प्रश्न अनिवार्य हैं।
All the questions are compulsory.
3. प्रत्येक प्रश्न का उत्तर दी गई उत्तर पुस्तिका में ही लिखें।
Write the answer of each question in the answer sheet only.
4. जिन प्रश्न में आंतरिक खंड हैं, उन सभी के उत्तर एक साथ ही लिखें।
For question having more than one part, the answers to those parts are to be written together in continuity.
5. प्रश्न का उत्तर लिखने से पूर्व प्रश्न का क्रमांक अवश्य लिखें।
Write down the serial number of the question before attempting it.
6. प्रश्न पत्र के हिंदी व अंग्रेजी रूपांतर में किसी प्रकार की त्रुटि अंतर विरोधाभास होने पर हिन्दी भाषा के प्रश्न को ही सही मानें।
If there is any kind of error/ difference/contradiction in the Hindi and English versions of the question paper, the question of Hindi version should be treated valid.
7. प्रश्न संख्या 1 बहुविकल्पी प्रश्न है, जिसमें 6 भाग हैं। प्रत्येक भाग एक अंक का है। सही विकल्प का चयन कर उत्तर पुस्तिका में लिखें।
Question number 1 is an multiple choice question, with 6 parts. Each part is of one mark. Choose the correct option and write it in the answer sheet.

प्रश्न संख्या Question No.	अंक प्रति प्रश्न Mark Per Question	उत्तर की शब्द सीमा Answer word limit
1 (i) to (vi)	1	सही विकल्प का चयन
2-8	1	10-20 शब्द
9-13	2	30-40 शब्द
14-16	3	50-60 शब्द
17-18	4	100-150 शब्द
19-20	5	200-250 शब्द

खण्ड—अ

Section-A

1. बहु वैकल्पिक प्रश्न

- (i) निम्नलिखित में से संश्लेषित तंतु कौनसा है — 01
(A) कपास (B) ऊन (C) नायलॉन (D) रेशम
Which is synthetic fiber in following -
(A) Cotton (B) Wool (C) Nylon (D) Sink
- (ii) निम्नलिखित में उत्क्रमित परिवर्तन है— 01
(A) कागज के मोड़ना (B) लोहे पर जंग (C) दूध से दही बनना
(D) बर्फ का पिघलना
The irreversible change is ?
(A) Birning of paper (B) corrosion of iron (C) Milk to Card
(D) Melting ice
- (iii) अचल संधि का उदाहरण कौनसा है ? 01
(A) कोहनी की संधि (B) घुटने की संधि (C) मेरुदण्ड में (D) कंधे की संधि
Which is the example of immovable joint ?
(A) Elbow joint (B) Knee joint (C) vertebral coloum joint
(D) shoulder joint
- (iv) निम्नलिखित में जैव घटक का उदाहरण है — 01
(A) शेर (B) चीता (C) समुद्र (D) पक्षी
Abiotic component in following is
(A) Lion (B) Tiger (C) sea (D) Bird
- v पारदर्शी पदार्थ का उदाहरण है — 01
(A) जल (B) अलमारी (C) चट्टान (D) पुस्तक
The example of transparent substance is
(A) Water (B) Almira (C) Rock (D) Book
- (vi) निम्नलिखित में चुम्बकीय पदार्थ का उदाहरण है — 01
(A) कोबाल्ट (B) मिट्टी (C) कोयला (D) पानी
Magnetic material in following
(A) Cobalt (B) Soil (C) Coal (D) Water
2. अनुत्क्रमित परिवर्तन क्या होते हैं ? 01
What are irreversible changes ?
3. हिंज संधि के दो उदाहरण लिखिए — 01
Write two examples of Hinge joint
4. वृत्ताकार गति के दो उदाहरण लिखिए — 01
Write two example of circular motion

5. विद्युत चालक तथा विद्युत रोधक पदार्थों का एक-एक उदाहरण लिखिए—01
Write down one example of both electrical conductor and insulator substances
रिक्त स्थान भरिए / Fill in the blanks
6. शेर एक जन्तु है। 01
Lion is animal
7. विटामिन D की कमी से रोग होता है। 01
Deficiency of vitamin D causes disease
8. पानी विद्युत का पदार्थ है। 01
Water is electrical substance.

SECTION-B

खण्ड—ब

9. क्या सभी जीवों में एक ही किस्म के भोजन की आवश्यकता होती है ? 02
Do you find that all living beings need the kind of food ?

OR

पांच पौधों के नाम लिखिए तथा बताइए इनके कौन से भाग का उपयोग खाद्य पदार्थ के रूप में होता है ?

Name five plants and their parts that we eat .

10. निम्नलिखित के नाम लिखिए — 02

- (i) पोषक जो मुख्य रूप से हमारे शरीर को उर्जा देते हैं।
(ii) पोषक जो हमारे शरीर की वृद्धि और अनुसरण के लिए आवश्यक है ?

Name the following

- (i) The nutrients which mainly give energy to our body.
(ii) The nutrients that are needed for the growth and maintenance of our body.

OR

निम्नलिखित के नाम लिखिए —

- (i) वह विटामिन जो हमारी अच्छी दृष्टि के लिए आवश्यक है ?
(ii) वह खनिज जो अस्थियों के लिए आवश्यक है ।

Name the following

- (i) A Vitamin required for maintaining good eyesight.
(ii) A mineral that is required for keeping our bones healthy.

11. पकाने से पहले दालों के किसी नमूने से आप भूसे व धूल के कण कैसे पृथक करेंगे ? 02

How will you separate husk or, dirt particles from a given sample of pulses before cooking?

12. कंदुक खल्लिका संधि क्या है ? उदाहरण दीजिए ।

What is a ball and socket joint ? give example.

13. आपको एक लोहे की पत्ती दी गई है। आप इसे चुंबक कैसे बनाएंगे ? 02

You are given an iron strip. How will you convert it into a magnet ?

OR

दिशा निर्धारण में कपास का किस प्रकार उपयोग होता है ?

How is a compass used to find directions?

SECTION-C

खण्ड—स

14. रूई तथा जूट (पटसन) पादप के किन भागों से प्राप्त होते हैं ? समझाइए 03

From which parts of the plant Cotton and Jute are obtained? Explain.

OR

निम्नलिखित तंतुओं को प्राकृतिक तथा संश्लेषित में वर्गीकृत कीजिए। नायलॉन, ऊन, रूई, रेशम, पॉलिस्टर, पटसन

Classify the Following Fibers as natural or Synthetic nylon, Wool, Cotton, Silk, Polyester, Jute.

15. छालन से क्या अभिप्राय है ? यह कहां उपयोग होता है ? 03

What is sieving? Where is it used ?

OR

रेत और जल के मिश्रण से आप रेत तथा जल को कैसे पृथक करेंगे ?

How will you separate sand and water from their mixture?

16. हमारी कोहनी पीछे की ओर क्यों नहीं मुड़ सकती ? 03

Why Can our elbow not move backwards?

OR

अस्थि और उपास्थि में उदाहरण सहित अंतर स्पष्ट कीजिए ।

What are differences between bone and cartilage? explain with examples.

SECTION-D

खण्ड—द

17. पग अथवा कदम का उपयोग लंबाई के मानक मात्रक से रूप में क्यों नहीं किया जाता ? 04

Why can a pace or a footstep not be used as a standard unit of length.

OR

किसी चलती हुई साइकिल के पहिए तथा चलते हुए छत के पंखे की गतियों में समानताएं तथा असमानताएं लिखिए –

Write the similarities and differences between the motion of a bicycle and a ceiling fan that has been switched on.

18. आपके घर में स्विच की मरम्मत करते समय विद्युत मिस्तरी रबड़ के दस्ताने क्यों पहनता है ? व्याख्या कीजिए – 04

Why should an electrician use rubber gloves while repairing an electric switch at your home? explain.

OR

विद्युत सेल का चित्र बनाइये। इसकी संरचना के बारे में संक्षिप्त वर्णन कीजिए

Draw the diagram of electric cell. Describe its structure shortly.

SECTION-E

खण्ड—य

19. कैंक्टस मरुस्थल में जीवनयापन के लिए किस प्रकार अनुकूलित है ? 05

How are cactus adapted to survive in a desert?

OR

घास के मैदानी क्षेत्रों में रहने वाले जन्तुओं को अपना अस्तित्व बनाए रखने के लिए तीव्र गति क्यों आवश्यक है?

Explain, why speed is important for survival in the grasslands for animals that live there?

OR

जलीय आवास में रहने वाले जीवों में उपस्थित विशेष अनुकूलन समझाइए।

Explain specific adaptation present in living organisms of aquatic habitat.

20. सूची छिद्र कैमरा क्या होता है ? इसे बनाने की प्रक्रिया समझाइए। 05

What is a pinhole camera? How can it be made ?

OR

निम्नलिखित पर संक्षिप्त टिप्पणी लिखिए –

(i) दीप्त पिंड (ii) परिदर्शी

Write short notes on following-

(i) Luminous object (ii) Periscope

OR

पारदर्शी, अपारदर्शी एवं पारभासी वस्तुओं में उदाहरण सहित अंतर स्पष्ट कीजिए –

Explain difference among transparent, opaque and translucent objects with examples.

नमूना प्रश्न पत्र-1
उच्च प्राथमिक परीक्षा-2021
कक्षा-6
सामाजिक विज्ञान
Sample Question Paper-I
Upper Primary Examination-2021
Class - VI
Social Science

समय : 2:30 घण्टे
Time : 2:30 Hours

पूर्णांक : 50
Marks : 50

परीक्षार्थियों के लिए सामान्य निर्देश :

GENERAL INSTRUCTIONS TO THE EXAMINEES:

1. परीक्षार्थी सर्वप्रथम अपने प्रश्न पत्र पर अपना नामांक अनिवार्यतः लिखें।
Candidates must write his/her Roll Number on the question paper.
2. सभी प्रश्न अनिवार्य हैं।
All the questions are compulsory.
3. प्रत्येक प्रश्न का उत्तर दी गई उत्तर पुस्तिका में ही लिखें।
Write the answer of each question in the answer sheet only.
4. जिन प्रश्न में आंतरिक खंड हैं, उन सभी के उत्तर एक साथ ही लिखें।
For question having more than one part, the answers to those parts are to be written together in continuity.
5. प्रश्न का उत्तर लिखने से पूर्व प्रश्न का क्रमांक अवश्य लिखें।
Write down the serial number of the question before attempting it.
6. प्रश्न पत्र के हिंदी व अंग्रेजी रूपांतर में किसी प्रकार की त्रुटि अंतर विरोधाभास होने पर हिन्दी भाषा के प्रश्न को ही सही मानें।
If there is any kind of error/ difference/contradiction in the Hindi and English versions of the question paper, the question of Hindi version should be treated valid.
7. प्रश्न संख्या 1 बहुविकल्पी प्रश्न है, जिसमें 6 भाग हैं। प्रत्येक भाग एक अंक का है। सही विकल्प का चयन कर उत्तर पुस्तिका में लिखें।
Question number 1 is an multiple choice question, with 6 parts. Each part is of one mark. Choose the correct option and write it in the answer sheet.

प्रश्न संख्या Question No.	अंक प्रति प्रश्न Mark Per Question	उत्तर की शब्द सीमा Answer word limit
1 (i) to (vi)	1	सही विकल्प का चयन
2-8	1	10-20 शब्द
9-13	2	30-40 शब्द
14-16	3	50-60 शब्द
17-18	4	100-150 शब्द
19-20	5	200-250 शब्द

SECTION-A

1. बहुवैकल्पिक प्रश्न:-

(i) हमारे देश का नाम भारत किस आधारित है - (1)

- (अ) भरत (ब) इण्डिया
(स) इन्दौस (द) सिन्ध

What is our country's name based on -

- (A) Bharat (B) India
(C) Indos (D) Sindh

(ii) कोशाम्बी किले की दीवार नामक चित्र कहाँ से प्राप्त हुआ - (1)

- (अ) इलाहबाद (ब) पाटलीपुत्र
(स) मगध (द) बनारस

Where was picture called "Kaushambi" Fort wall be obtained from -

- (A) Allahabad (B) Patna
(C) Magadh (D) Banaras

(iii) ध्रुव तारे से किस दिशा का ज्ञान होता है - (1)

- (अ) दक्षिण (ब) उत्तर
(स) पूर्व (द) पश्चिम

Which direction does the pole star indicate -

- (A) South (B) North
(C) East (D) West

(iv) मानचित्र में नीले रंग का प्रयोग किसे दिखाने में किया जाता है - (1)

- (अ) जलाशयों (ब) पर्वतों
(स) मैदानों (द) पठारों

In the map blue colour indicates -

- (A) Reservoirs (B) Mountains
(C) The Plains (D) Plateaus

(v) जलियाँवाला बाग हत्याकाण्ड कहाँ हुआ था - (1)

- (अ) अमृतसर (ब) दिल्ली
(स) राजस्थान (द) केरल

Where old the Jallianwala Bagh marracre take place -

- (A) Amritsar (B) Delhi
(C) Rajasthan (D) Kerala

- (vi) ग्राम पंचायत का कार्यकाल कितने वर्ष का होता है - (1)
(अ) 5 वर्ष (ब) 6 वर्ष
(स) 2 वर्ष (द) 6 माह

How did is the tenure of the Gram Panchayat -

- (A) 5 year (B) 6 year
(C) 2 year (D) Kerala

2. चीनी यात्री भारत क्यों आए ? (1)

Why did Chines Travelers come to India?

3. कौनसा मानचित्र विस्तृत जानकारी प्रदान करता है ? (1)

Which map provides detailed infromation?

4. ग्लोब क्या है ? (1)

What is the globe ?

5. "भारत की खोज" पुस्तक किसने लिखी ? (1)

Who wrote the Discovery of India?

6. घास वाले मैदानों का विकास साल पहले हुआ। (1)

Grarrlands developed ----- years ago.

7. राजकुमारों को अक्सर प्रान्तों में के रूप में भेजा जाता था। (1)

The Princes were often sent as ----- to the provinces.

8. सूर्य से तीसरा सबसे नजदीक ग्रह कौनसा है। (1)

----- is the third closest planet to the sun.

SECTION-B

9. पालतू जानवर कौन-कौन से हैं ? (2)

What are the pet animal?

अथवा OR

भोजन के लिए लोग किसका संग्रहण किया करते थे ?

What did people store for food?

10. सूर्य से उनकी दूरी के अनुसार सभी ग्रहों के नाम लिखिए। (2)

Write the names of all the planets according to their distance from the sun.

11. पृथ्वी की कितनी गतियाँ हैं ? उनके नाम लिखिए। (2)

Write the number of movements of the earth ?

अथवा OR

दो मानव निर्मित उपग्रहों के नाम लिखिए।

Name two man-made satellites.

12. ग्राम सभा क्या होती है ? (2)

What is the Gram Sabha ?

अथवा OR

ग्राम सभा के किन्ही दो कार्यों का उल्लेख कीजिए।

Mention any two functions of Gram Sabha.

13. अस्पृश्यता से आप क्या समझते हैं ? (2)

What do you understand by untouchability?

SECTION-C

14. मिश्र मे ममी क्या है ? (3)

What is "Mummy" in Egypt ?

अथवा OR

पिरामिड क्या होते हैं ?

What are Pyramids ?

15. ऐसे तीन लेखकों के नाम लिखें जिन्होंने हर्षवर्धन के बारे में लिखे। (3)

Write the names of three such authors who wrote about Harshvardhan ?

अथवा OR

महाजनपद के राजाओं ने किले क्यों बनवाए ?

Why did the kings of Mahajanpad build forts ?

16. प्रतीक किस प्रकार मानचित्रों के अध्ययन में सहायक होते हैं ? (3)

How do symbols help to study maps ?

अथवा OR

मानचित्र के पैमाने से आप क्या समझते हैं ?

What do you understand by the scale of the map ?

SECTION -D

17. मिलान कीजिए—

(4)

- | | |
|-------------------------|------------------|
| i) बुद्ध का प्रथम उपदेश | a) महावीर स्वामी |
| ii) विनयपिटक | b) सारनाथ |
| iii) कार्ले गुफा | c) बोद्धग्रन्थ |
| iv) अंतिम तीर्थकर | d) महाराष्ट्र |

Match ups:-

- | | |
|-----------------------------------|-------------------|
| i) The First sermon of the Buddha | a) Mahavir Swami |
| ii) Vinay Pitak | b) Sarnath |
| iii) Carly Cave | c) Buddhist texts |
| iv) Last Trithankara | d) Maharashtra |

अथवा OR

निम्नलिखित का मिलान कीजिए —

- | | |
|-------------|------------------------------|
| i) विहार | (अ) गुरु के समीप बैठना |
| ii) उपनिषद् | (ब) बौद्ध निवास |
| iii) पाणिनि | (स) तृष्णा |
| iv) तञ्हा | (द) व्याकरण आचार्य (संस्कृत) |

Match up the following :-

- | | |
|-----------------|----------------------------------|
| (i) Monasteries | (a) Approaching and sitting near |
| (ii) Upnishdas | (b) Buddh Shelters |
| (iii) Panini | (c) Thirst |
| (iv) Tanha | (d) Sanskrit Grammarian |

18. विश्व के मानचित्र निम्नलिखित को अंकित कीजिए:-

(4)

- (i) यूरोप (ii) एशिया (iii) आस्ट्रेलिया (iv) भारत

Put the following in the map of the world:-

- (i) Europe (ii) Asia (iii) Australia (iv) India

अथवा OR

भारत के रेखा मानचित्र पर निम्नलिखित को अंकित कीजिए।

(i) लक्ष्यद्वीप (ii) अण्डमान द्वीपसमूह (iii) राजस्थान (iv) दिल्ली

Put the following on the line map of India

(i) Lakshdeep (ii) Andaman Islands (iii) Rajasthan (iv) Delhi

Section -E

19. अक्षांश एवं देशान्तर रेखाओं में अन्तर स्पष्ट कीजिए। (5)

Explain the difference between Latitude and Longitude.

अथवा OR

जब भारत में शाम के 5:30 मिनट होते हैं तब लन्दन में दोपहर के 12 बजते हैं।

(i) लक्ष्यद्वीप (ii) अण्डमान द्वीपसमूह (iii) राजस्थान (iv) दिल्ली

Why Settle at 12:00 noon in London when its 5:30 in the evening in India.

अथवा OR

पृथ्वी के 3 ताप कटिबन्धों के नाम लिखिए तथा यह भी बताइए कि कौनसा कटिबन्ध सर्वाधिक ऊष्मा ग्रहण करता है एवं क्यों?

Write the names of the three tropical regions of the earth and also tell which zone absorbs the most of the heat and why ?

20. महिला मताधिकार आन्दोलन क्या है? इसकी उपलब्धि क्या थी ? (5)

What is female Suffrage Movement? What were its achievement ?

अथवा OR

सरकार क्या है ? किन तरीकों से लोग सरकार की प्रक्रियाओं में भाग लेते हैं ?

What is the Government? In What ways do people Participate in the Process of government?

अथवा OR

लोकतन्त्र से आप क्या समझते हैं लोकतांत्रिक सरकार के आवश्यक लक्षण क्या हैं?

What do you understand by "Democracy"? what are the essential characteristics of democratic government ?

नमूना प्रश्न पत्र-1
उच्च प्राथमिक परीक्षा-2021
कक्षा-6
संस्कृत
Sample Question Paper-I
Upper Primary Examination-2021
Class - VI
Sanskrit

समय : 2:30 घण्टे
Time : 2:30 Hours

पूर्णांक : 50
Marks : 50

परीक्षार्थियों के लिए सामान्य निर्देश :

1. परीक्षार्थी सर्वप्रथम अपने प्रश्न पत्र पर अपना नामांक अनिवार्यतः लिखें।
2. सभी प्रश्न अनिवार्य हैं।
3. प्रत्येक प्रश्न का उत्तर दी गई उत्तर पुस्तिका में ही लिखें।
4. जिन प्रश्न में आंतरिक खंड है, उन सभी के उत्तर एक साथ ही लिखें।
5. प्रश्न का उत्तर लिखने से पूर्व प्रश्न का क्रमांक अवश्य लिखें।

अधिगम क्षेत्र	अंक
पाठ्यपुस्तकम् (पठितावबोधनम्)	25
व्याकरणम् (पाठ्यपुस्तकाद्)	20
रचनात्मकम् कार्यम्	10
कुल	50

(खण्ड – अ)

1. बहु वैकल्पिक प्रश्न :-

- i) “बलीवर्दी” इति पदस्य अर्थम् अस्ति – (1)
(अ) दो गाय (ब) तीन बैल
(स) दो बैल (द) तीन गाय
- ii) शृगालः कस्यां बकाय क्षीरोदनम् अयच्छत् – (1)
(अ) कंसे (ब) स्थाल्यां
(स) कलशे (द) चषके
- iii) ‘लघुः’ इति पदस्य वर्णविच्छेदम् अस्ति – (1)
(अ) ल्+अ+घ्+उ+ः (ब) ल्+घ्+उ+ः
(स) ल्+अ+घ्+ऊ+ः (द) ल्+घ्+उ
- iv) ख्+अ+ट्+व्+आ इत्यस्य सम्यक वर्णसंयोजनमस्ति – (1)
(अ) खटवा (ब) खट्व
(स) खट्वा (द) खटव
- v) व्+य्+अ+ज्+अ+न+अ+म् इत्यस्य सम्यक वर्णसंयोजनमस्ति – (1)
(अ) व्यजनम् (ब) व्यंजनम्
(स) वयजनम् (द) व्यंजनम्
- vi) सः इति पदस्य बहुवचनमस्ति –
(अ) ते (ब) ताः
(स) तैः (द) तैः

2 निम्नलिखित प्रश्नों के उत्तर एक पद में लिखिए – (4)

- i) सुवर्णकारः किं रचयति ?
ii) वैनतेयः पशु अस्ति ? आम्/न
iii) “वातायनम्” इति शब्दस्य वर्णविच्छेदम् कुरुत ।
iv) “चषकः” इति पदस्य द्विवचन- बहुवचनौ लिखत ।

3. मञ्जूषा से उचित पद चुनकर रिक्तस्थानों की पूर्ति कीजिए— (3)

- (नृत्यन्ति, धावति, गर्जत, फलन्ति)
i) गज..... ।
ii) सिंहा..... ।
iii) मयूराः..... ।

(खण्ड-ब)

4 निम्नलिखित प्रश्नों में से किन्ही दो प्रश्नों के उत्तर लिखिए – (4)

- i) 1 से 10 तक संस्कृत में गिनती लिखिए ।
ii) किन्हीं पांच पशु-पक्षियों के नाम संस्कृत में लिखिए ।
iii) ‘करवस्त्राणि’ शब्द का क्या अर्थ है?
iv) “विहगाः” शब्द का क्या अर्थ है?

5. वचन के अनुसार रिक्तस्थानों की पूर्ति कीजिए— (2)
- | | एकवचन | द्विवचन | बहुवचन |
|-----|-------|---------|--------|
| i) | लता | | |
| ii) | | | पेटिका |
6. निर्देश के अनुसार कोई दो वाक्य बनाइए— (2)
- एतानि यानानि (द्विवचने).....
 - नारिकेलं पतति (द्विवचने).....
 - मयूराः नृत्यन्ति । (एकवचने).....
 - एतत् पतति । (बहुवचने).....
7. मञ्जूषा से उचित सर्वनाम पद चुनकर रिक्तस्थानों की पूर्ति कीजिए— (2)
- (मम, तव, अस्माकं, युष्माकं)
- एतत्.....पुस्तकं ।
 -बुद्धिस्थिरा ।
 - संस्कृतम्.....भाषा ।
 - एषा.....शिक्षिका ।

(खण्ड स)

8. निम्नलिखित प्रश्नों में से किन्ही तीन प्रश्नों के उत्तर एक वाक्य में संस्कृत में लिखिए — (6)
- कति बालाः स्नानाय अगच्छन् ?
 - पिककाकयोः भेदः कदा भवति ?
 - अस्माभिः किं वक्तव्यं ?
 - शृगालस्य मित्रं कः आसीत् ?
 - मार्गं कः आगच्छत् ?
 - क्रीडास्पर्धाः कुत्र सन्ति ?
9. अपनी पाठ्यपुस्तक से एक श्लोक लिखिए जो इस प्रश्नपत्र में नहीं पूछा गया हो । (3)

(खण्ड द)

10. निम्नलिखित गद्यांशों में से किसी एक का हिन्दी अनुवाद लिखिए । (4)

एकस्मिन् वने शृगालः बकः च निवसतः स्म । तयोः मित्रता आसीत् । एकदा प्रातः शृगालः बकम् अवदत् — “ मित्र ! श्वः त्वं मया सह भोजनं कुरु । ” शृगालस्य निमन्त्रेण बकः प्रसन्नः अभवत् ।

अथवा

पथिकः तान् अगण्यत् । तत्र दश बालकाः एव आसन् । सः नायकम् आदिशत् त्वं बालकान् गणयः । सः तु नवबालकान् एव अगणयत् । तदा पथिकः अवदत् — दशमः त्वम् असि इति । तत्श्रुत्वा प्रहृष्टाः भूत्वा सर्वे गृहम् अगच्छन् ।

11. निम्नलिखित में से किसी एक श्लोक का हिन्दी अनुवाद लिखिए । (4)

उद्यमेन हि सिध्यन्ति कार्याणि न मनोरथैः ।
न हि सुप्तस्य सिंहस्य प्रविशन्ति मुखे मृगाः ॥

अथवा

गच्छन् पिपिलिको याति योजनानां शतान्यपि ।
अगच्छन् वैनतेयः पदमेकं न गच्छति ॥

(खण्ड य)

12. निम्नलिखित में से किसी एक विषय पर संस्कृत में 5 पंक्तियों में निबंध लिखिए – (5)
i) मम विद्यालय ii) मम धेनुः iii) मम उद्यानम्
13. आवश्यक कार्य हेतु एक दिन अवकाश के लिए अपने प्रधानाध्यापक को संस्कृत में प्रार्थना पत्र लिखिए। (5)

अथवा

बीमारी के कारण दो दिन के अवकाश के लिए अपने प्रधानाध्यापक को संस्कृत में प्रार्थना पत्र लिखिए।

नमूना प्रश्न पत्र-2
उच्च प्राथमिक परीक्षा-2021
कक्षा-6
संस्कृत
Sample Question Paper-II
Upper Primary Examination-2021
Class - VI
Sanskrit

समय : 2:30 घण्टे
Time : 2:30 Hours

पूर्णांक : 50
Marks : 50

परीक्षार्थियों के लिए सामान्य निर्देश :

1. परीक्षार्थी सर्वप्रथम अपने प्रश्न पत्र पर अपना नामांक अनिवार्यतः लिखें।
2. सभी प्रश्न अनिवार्य हैं।
3. प्रत्येक प्रश्न का उत्तर दी गई उत्तर पुस्तिका में ही लिखें।
4. जिन प्रश्न में आंतरिक खंड है, उन सभी के उत्तर एक साथ ही लिखें।
5. प्रश्न का उत्तर लिखने से पूर्व प्रश्न का क्रमांक अवश्य लिखें।

अधिगम क्षेत्र	अंक
पाठ्यपुस्तकम् (पठितावबोधनम्)	25
व्याकरणम् (पाठ्यपुस्तकाद्)	20
रचनात्मकम् कार्यम्	10
कुल	50

(खण्ड – अ)

1. बहु वैकल्पिक प्रश्न :-

- i) “स्थालिकाः” इति पदस्य अर्थम् अस्ति – (1)
अ. कटोरियाँ ब. थालियाँ
स. बर्तन द. थालिका
- ii) विद्यालय पठनाय विशेषव्यवस्था कस्मै कृति वर्तते – (1)
अ. पूरनः ब. फेकनः
स. जूली द. इन्दरः
- iii) “ध्+आ+व्-अ+त्+अः इत्यस्य सम्यक् वर्णसंयोजनमस्ति – (1)
अ. धावत ब. धावत
स. धावताः द. धावतः
- iv) “प्+उ+र्+आ+ण्+आ+न्+इ” इति अस्य सम्यक् वर्णसंयोजनमस्ति– (1)
अ. पूराणानि ब. पुराणाणि
स. पुराणानि द. पूराणाणि
- v) “सीव्यति” इति पदस्य वर्णविच्छेदं किम्– (1)
अ. स्+इ+व्+य्+त्+इ ब. स्+ई+व्+अ+त्+ई
स. स्+इ+व्+अ+य+इ द. स्+ई+व्+य्+अ+त्+इ
- vi) ‘मम’ इति पदस्य बहुवचनम् अस्ति – (1)
अ. अस्माकम् ब. युष्माकम्
स. वयम् द. आवयों :
2. निम्नलिखित प्रश्नों के उत्तर एक शब्द (पद) में लिखिए– (4)
i) सौचिकः किं करोति?
ii) दशबालकाः स्नानाय अगच्छन् । (आम्/न)
iii) ‘कुञ्चिका’ इति पदस्य वर्णविच्छेदं कुरुत ।
iv) ‘सः’, ‘तव’, ‘सतत्’ इति पदानि कृते बहुवचनपदानि लिखत ।
3. मंजूषा से उचित अव्ययपद चुनकर रिक्तस्थान पूर्ति कीजिए – (3)
(अद्यः, प्रातः, कदा, अधुना)
i) भ्रमणं स्वास्थ्याय श्रेष्ठं भवति ।
ii) त्वं मातुलगृहं गमिष्यसि ।
iii)रविवासरः अस्ति ।

(खण्ड-ब)

4. निम्न में से किन्हीं दो प्रश्नों के उत्तर लिखिए। (4)
i) कपोत, मण्डूक, घटिका, सुवर्णकारः शब्दों के हिन्दी अर्थ लिखिए ।
ii) ‘चश्मा’, ‘कम्प्यूटर’ के लिए संस्कृत शब्द लिखिए ।
iii) “चतुरङ्गः” हिन्दी अर्थ क्या है ?
iv) 11 से 20 तक संस्कृत में गिनती लिखिए ।

5. वचन के अनुसार ('सः, तौ, ते) उचित सर्वनाम पद चुनकर रिक्त स्थान की पूर्ति कीजिए— (2)
- i)चलन्ति। (सः/तौ/ते)
- ii)गायति। (सः/तौ/ते)
6. कोष्ठक से उचित पद चुनकर वाक्य पूर्ति कीजिए (कोई दो) – (2)
- i)चलति। (नौके/नौका)
- ii)उत्पतन्ति। (मक्षिकाः/मक्षिके)
- iii)अस्ति। (रामः/रामाः)
- iv)चरतः। (अजा/अजे)
7. तत्सम शब्द लिखिए। (कोई चार) (2)

	तद्भव	तत्सम
i)	सियार
ii)	मक्खी
iii)	बन्दर
iv)	बगुला
v)	नाक
v)	कौआ

(खण्ड—स)

8. निम्नलिखित प्रश्नों में से किन्ही तीन प्रश्नों के उत्तर संस्कृत में एक वाक्य में लिखिए। (6)
- i) शृगालस्य स्वभावः कीदृशः भवति ?
- ii) कः गच्छन् योजनानां शतान्यपि यापि ?
- iii) वचने किं न कर्तव्यम् ?
- iv) बैडमिण्टन—क्रीडयां फेकनस्य सहभागिनी का अस्ति ?
- v) पथिकः किम् अवदत् ?
- vi) बालकाः स्नानाय कुत्र अगच्छन् ?
9. अपनी पाठ्यपुस्तक से एक श्लोक लिखें जो इस प्रश्न पत्र में नहीं पूछा गया हो। (3)

(खण्ड—द)

10. निम्नलिखित गद्यांशों में से किसी एक गद्यांश का हिन्दी अनुवाद लिखिए। (4)
- एकदा दश बालकाः स्नानाय नदीम् अगच्छन्। ते नदीजले चिरं स्नानम् अकुर्वन्। ततः ते तीर्त्वा पारं गताः। तदा तेषां नायकः अपृच्छत्—अपि सर्वे बालकाः नदीम् उत्तीर्णाः?

अथवा

बकः कलशात् चञ्च्वा क्षीरोदनम् अखादत् ई परन्तु शृगालस्य मुखं कलशे न प्राविशत् अतः बकः सर्वं क्षीरोदनम् अखादत् शृगालः च केवलम् ईर्ष्या अपश्यत्।

11. निम्नलिखित श्लोकों में से किसी श्लोक का हिन्दी अनुवाद लिखिए। (4)
प्रियवाक्यप्रदानेन सर्वे तुष्यन्ति जन्तवः।
तस्मात् प्रियं हि वक्तव्यं वचने का दरिद्रता।।

अथवा

काकः कृष्णः पिकः कृष्णः को भेदः पिककाकयोः।
वसन्त समये प्राप्ते काकः काकः पिकः पिकः।।

(खण्ड—य)

12. निम्नलिखित में से किसी एक विषय पर संस्कृत में 5 पंक्तियों में निबन्ध लिखिए। (5)
i) मम प्रिय अध्यापकः ii) मम राजस्थानं iii) मम परिवार
13. शुल्क मुक्ति हेतु प्रधानाचार्य को प्रार्थना पत्र लिखिए। (संस्कृत में) (5)

अथवा

स्थानान्तरण प्रमाण पत्र हेतु प्रधानाचार्य को प्रार्थना पत्र लिखिए। (संस्कृत में)

نوٹ:- تمام سوالات حل کرنا ضروری ہے۔

(i) اپنے جوابات کاپی میں لکھیے۔

(ii) سوال نمبر 1 کے جواب چارٹ بنا کر کاپی میں لکھیے۔

(v)	(iv)	(iii)	(ii)	(i)	سوال-1
					صحیح جواب

UNIT-I

5

سوال-1 نیچے لکھے سوالوں کے صحیح جواب چھانٹ کج لکھیے

(i) لفظ 'گھر' کا پہلا حرف ہے۔

(الف) گھر (ب) بھ (ج) دھ (د) پھ ()

(ii) لفظ 'دکھ' کا آخری حرف ہے۔

(الف) کھ (ب) بھ (ج) گھ (د) گھ ()

(iii) لفظ 'جدھر' کا درمیانی حرف ہے۔

(الف) بھ (ب) دھ (ج) کھ (د) ٹھ ()

(iv) لفظ 'گدھ' کا آخری حرف ہے۔

(الف) بھ (ب) پھ (ج) دھ (د) تھ ()

(v) لفظ 'پھل' میں کتنے حروف ہیں۔

(الف) 1 (ب) 2 (ج) 3 (د) 4 ()

3

سوال-2 خالی جگہوں کو مناسب الفاظ سے بھریے۔

(i) کوئل----- رہی ہے۔ (کوک - پھونک)

(ii) بکری----- دیتی ہے۔ (دودھ - پھل)

(iii)----- ایک بڑا جانور ہے۔ (ہاتھی - ہرن)

UNIT- II

4

سوال-3 نیچے دیے گئے لفظوں کو ہندی میں لکھیے۔

آگ - آم - تاج - بلب - بات

4

سوال 4 - نیچے دیے لفظوں کو اردو میں لکھیے۔

نم نام تابا جان باجا رار

UNIT-III

4

سوال 5- نیچے دیے گئے لفظوں کو الگ-الگ کر کے لکھیے۔ (کوئی سے چار)

بس شب سدا خرچ درخت

4

سوال 6- نیچے دیے گئے لفظوں کو جوڑ کر لکھیے۔ (کوئی سے چار)

آ+خ+ر=	م+گ+ر=	خ+ب+ر=	ت+ا+ر+ا=	چ+ا+ر=
--------	--------	--------	----------	--------

4

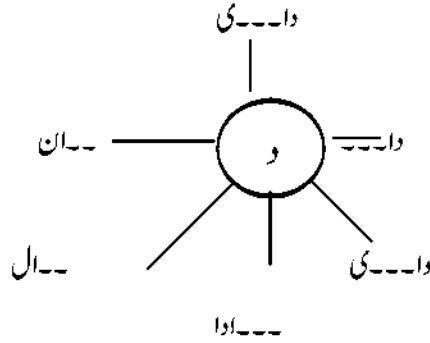
سوال 7- نیچے دیے گئے الفاظ کو تین (') کی مدد سے پورا کیجیے۔ (کوئی سے چار)

تقریباً قصدا مزاجاً مثلاً دفعتاً

UNIT-IV

3

سوال 8- گولے میں دیے گئے حرف کو ملا کر لفظ بنائیے۔



2

سوال 9- حروف تہجی کو ترتیب سے لکھیے۔

ا پ ب ث ج ت ح ث خ ج

3

سوال 10- حروف تہجی لکھیے (الف سے رے تک)

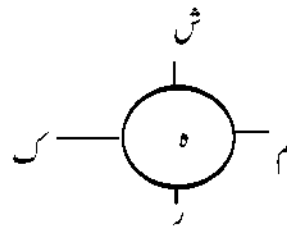
UNIT-V

4

سوال 11- نیچے دیے گئے لفظوں کو خوشخط لکھیے

ضیاء صابر خطا خط باغ

سوال 12- دائرے میں دیے گئے حروف کی مدد سے لفظ بنائیے۔



3

3

سوال-13 نیچے لکھے لفظوں پر تشدید لگائیے (کوئی سے تین)

ابا پتا جنت ضدی عزت

3

سوال-14 زیر اور پیش والے لفظوں کو چھانٹ کر لکھیے (کوئی سے تین)

واحد رُت اذان ظفر عفر

☆☆☆

کل نمبر: 50

وقت : 2.30 گھنٹہ

نوٹ:- (i) تمام سوالات حل کرنا ضروری ہے۔

(ii) اپنے جواب کاپی میں لکھیے۔

(iii) سوال نمبر 1 کا جواب چارٹ بنا کر کاپی میں لکھیے۔

(v)

(iv)

(iii)

(ii)

(i)

سوال 1

صحیح جواب

UNIT-I

5

سوال 1. نیچے لکھے سوالوں کے صحیح جواب چھانٹ کر لکھیے۔

(i) لفظ 'پھل' کا پہلا حرف ہے۔

()

(الف) بھ (ب) پھ (ج) تھ (د) ٹھ

(ii) لفظ 'بھر' کا آخری حرف ہے۔

()

(الف) د (ب) ذ (ج) ر (د) ز

(iii) لفظ 'چھاتا' کا پہلا حرف ہے۔

()

(الف) چھ (ب) جھ (ج) بھ (د) تھ

(iv) لفظ 'جھولا' کا پہلا حرف ہے۔

()

(الف) چھ (ب) جھ (ج) بھ (د) پھ

(v) لفظ 'ڈھال' کا درمیانی حرف ہے۔

()

(الف) ڈھ (ب) ا (ج) ل (د) ھ

3

سوال 2. خالی جگہوں کو مناسب الفاظ سے بھریے۔

(لکھنؤ۔۔۔۔۔ بے پور)

(i)۔۔۔۔۔ اتر پردیش کی راجدھانی ہے

(سُتتا۔۔۔ گھوڑا)

(ii)۔۔۔۔۔ پہناتا ہے۔

(ا۔۔۔ ب)

(iii)۔۔۔۔۔ پ ت ث

UNIT-II

4

سوال 3. نیچے دیے گئے لفظوں کو ہندی میں لکھیے۔ (کوئی سے چار)

نضا چارپائی لال کار چاند

4

سوال 4. نیچے دیے گئے لفظوں کو اردو میں لکھیے۔ (کوئی سے چار)

ماگ دیرن ایتھفاکن کسدن آم

UNIT- III

- 4 سوال 5. نیچے لکھے لفظوں کے حروف کو الگ-الگ کر کے لکھیے۔ (کوئی سے چار)
- آری باپ پاپا ٹاٹا پاٹ
- 4 سوال 6. نیچے لکھے لفظوں کو جوڑ کر لکھیے۔ (کوئی سے چار)
- ن+ل = ج+پ+ا+ن = ن+ا+ج = ج+و+ٹ = خ+و+ن
- 4 سوال 7. نیچے لکھے لفظوں کو تین (') کی مدد سے پورا کیجیے۔ (کوئی سے چار)
- واقعتاً احتراماً اشارتاً نسبتاً اراداً

UNIT-IV

- 3 سوال 8. دائرے میں دیے گئے حرف کی مدد سے لفظ بنائیے۔
- س
- زا ب ر رو
- 2 سوال 9. حروف تہجی کے حروف کو ترتیب سے لکھیے۔
- ڈ چ د ج ذ خ ح
- 3 سوال 10. حروف تہجی لکھیے۔ (الف سے لے تک)

UNIT - V

- 4 سوال 11. نیچے لکھے لفظوں کو خوش خط لکھیے۔
- صدا خاص درد طرح وطن
- 4 سوال 12. دائرے میں دیئے ہوئے حرف کی مدد سے لفظ بنائیے
- ع
- ددا رب د
- 3 سوال 13. نیچے لکھے ہوئے لفظوں پر تشدید لگائیے (کوئی سے تین پر)
- جنت ری ضدی ٹٹو عزت
- 3 سوال 14. زبر، زیر اور پیش والے لفظوں کو چھانٹ کر لکھیے۔ (کوئی سے تین)
- خیر دل گمیل خدا اُردو

BLUE PRINT 2020-21

CLASS : VI URDU

Total Marks : 50

مقررہ نمبر	مواد/مضامین	نمبر شمار
25	نصابی کتاب	1
25	تخلیق	2
50	کل	
مقررہ نمبر	مواد	اکائی
5+3=8	نصابی کتاب + تخلیق	I
	سوال 1 معروضی سوالات۔ 5	سوال نمبر 1 اور 2
	سوال 2 خالی جگہ بھریئے۔ 03	
4+4=8	سوال 3 لفظوں کو ہندی میں لکھیے۔ 01	II
	سوال 4 لفظوں کو اردو میں لکھیے۔ 01	سوال نمبر 3 اور 4
	نصاب + تخلیق	
4+4+4=12	نصابی کتاب + تخلیق	III
	سوال 5 حروف کو الگ کیجیے۔ 01	سوال نمبر
	سوال 6 حروف کو جوڑ کر لکھیے۔ 01	5,6,7
	سوال 7 تنوین کی مدد سے الفاظ بنائیے۔ 01	
3+2+3=08	سوال 8 دائرے میں لکھے حرف سے لفظ	IV
	بنائیے 01	سوال نمبر
	سوال 9 حروف تہجی کو ترتیب سے لکھیے۔ 01	8,9,10
	سوال 10 حروف تہجی لکھیے۔ 01	
4+4+3+3=14	سوال 11 خوشخط لکھیے۔ 01	V
	سوال 12 دائرے میں دیئے حرف کی مدد سے لفظ	سوال نمبر
	بنانا۔ 01	11,12,13,14
	سوال 13 لفظوں پر تشدید لگانا۔ 01	
	سوال 14 زبر، زیر اور پیش والے لفظوں کو	
	چھانڈنا۔ 01	